

Producció de taronges

L'Eva i en Màrius han buscat informació a Internet sobre la producció de taronges per al seu treball de socials.

país	tones
Egipte	2.346.000
el Marroc	875.400
Turquia	1.431.800
Itàlia	2.209.000
Grècia	964.000
Espanya	3.390.000



1. Fixa't en la taula que han elaborat i escriu amb lletres la producció de taronges d'Espanya i d'Itàlia:

Espanya:

Itàlia:

2. Contesta:

• Quin país té el nombre 4 a les centenes de miler?

• Quin país té el nombre 4 a les desenes de miler?

3. Calcula:


- La diferència de producció que hi ha entre Itàlia i Turquia:

..... tones


- Les tones totals entre Espanya i Egipte:

..... tones

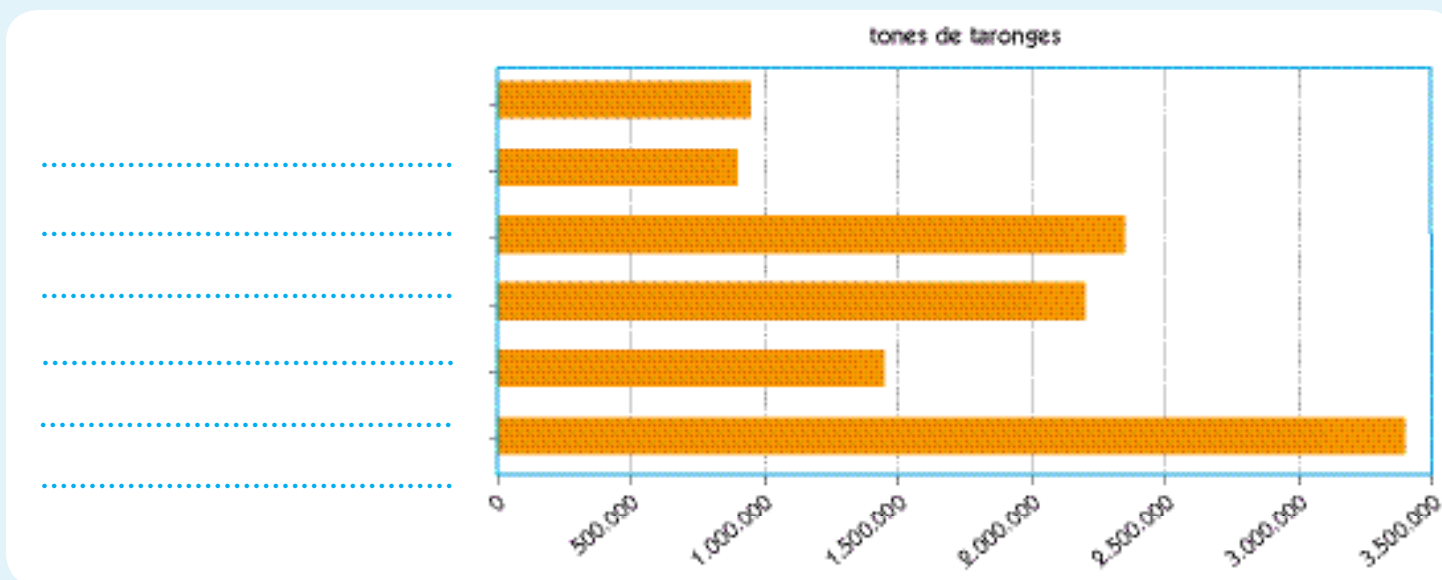
4. Ordena les produccions de més gran a més petit a la taula:




país	tones
Espanya	



5. L'Eva i en Màrius han elaborat un gràfic amb les dades de la taula, però s'han oblidat d'escriure-hi els noms dels països. Escriu-los tu:



6. L'Eva ha portat a la classe 5 taronges i en Màrius n'ha portat 11. Quantes taronges ha de donar en Màrius a l'Eva per tal que tots dos en tinguin la mateixa quantitat?

..... taronges 

El parc d'atraccions

Aquest cap de setmana, l'Ivan i la Llúcia han anat amb els pares a un parc d'atraccions.



1. El preu de l'entrada varia segons l'alçada. Si l'Ivan fa 136 cm i la Llúcia fa 145 cm, quant els costen les 2 entrades?

Els costen euros.

2. Quant van pagar en total per les 4 entrades, si sabem que els seus pares fan més de 150 cm d'alçada?

Van pagar euros.


3. A l'atracció "El tren de la mina" pugen 18 passatgers a cada viatge. En una hora fan 45 viatges. Quantes persones hi poden pujar en una hora?

Hi poden pujar persones.

Entrades al parc



menys de 120 cm:	16,50€
entre 120 cm i 140 cm:	20,50€
entre 140 cm i 150 cm:	22,50€
a partir de 150 cm:	25,50€



4. Cada vagoneta de "Dragó" pot portar 4 passatgers. A la cua, davant de l'Ivan i la Llúcia, hi ha 112 persones. Quantes vagonetes s'ompliran abans que els arribi el torn?

S'ompliran vagonetes.

5. Al "Tami-tami" caben 16 persones a cada tren. El trajecte de cada viatge fa 207 m i cada hora fa 48 viatges. Calcula:

- El nombre de persones que hi poden pujar en una hora:

Hi poden pujar persones.

- Quants quilòmetres recorre en aquest temps?

Recorre km i m.

6. Al final del dia, baixen per un tobogan que té 10 banderoles. La primera està situada a la sortida i l'última a l'arribada. La distància entre banderoles és de 8 m. Quants metres fa el tobogan?

Fa m.

