

## Complète les histoires de multiplication


1) Une histoire de bouteilles de lait



$$5 \times 4 = 20$$

- a) Il y a .....paniers de lait.
- b) Il y a .....bouteilles dans chaque panier de lait.
- c) Il y a .....bouteilles de lait en tout.


2) Une histoire de fraises




$$4 \times 6 = 24$$

- a) Il y a .....4 assiettes de fraises.
- b) Il y a ..... fraises dans chaque assiette.
- c) Il y a ..... de fraises en tout.

### Invente une histoire pour cette multiplication



$$2 \times 1 = 2$$



$$10 \times 2 = 20$$