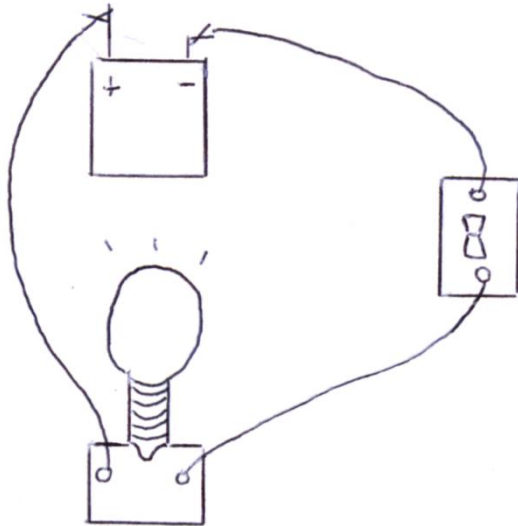


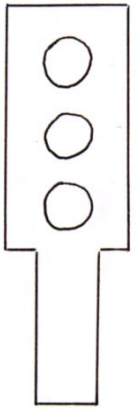
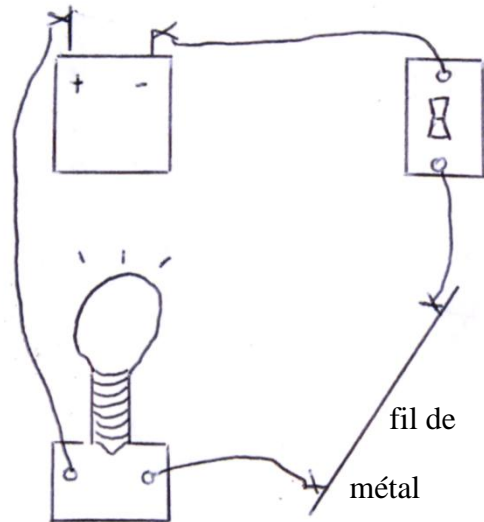
Chapitre 5: Objectif A1: Emettre une hypothèse :

a) Sarah a dessiné les deux montages électriques réalisés par son professeur:

Montage A:



Montage B:



Elle a remarqué que l'ampoule dans le montage B brillait moins fort que dans le montage A.

c) Explique cette observation:

.....
.....