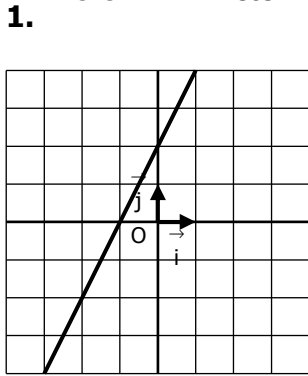
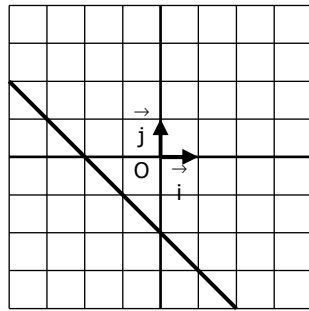


LECTURE DE COORDONNEES DE VECTEUR DIRECTEUR

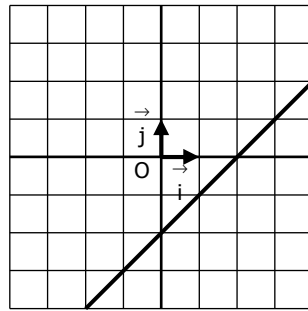
EXERCICE : Déterminer les coordonnées d'un vecteur directeur de chacune des droites



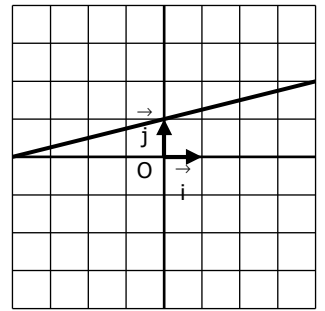
(1 ; 1) ou (2 ; 2) ou (-1 ; -1).....



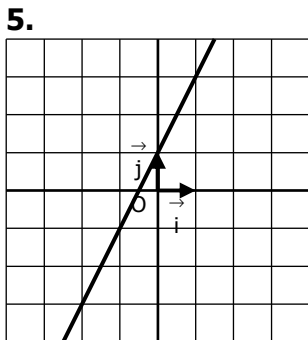
(1 ; -1) ou (2 ; -2) ou (2 ; -2) ou (-3 ; 3)...



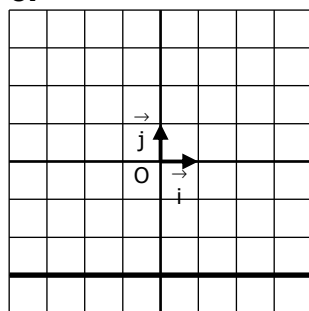
(1 ; 1) ou (2 ; 2) ou (-1 ; -1).....



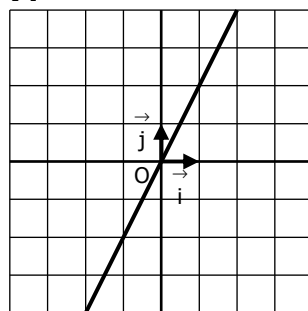
(4 ; 1) ou (8 ; 2)



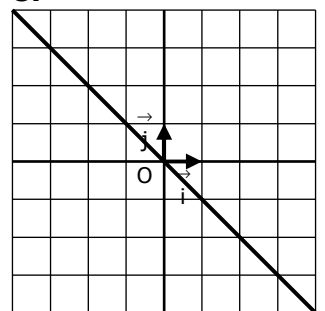
(1 ; 2) ou (2 ; 4) ou (3 ; 6).....



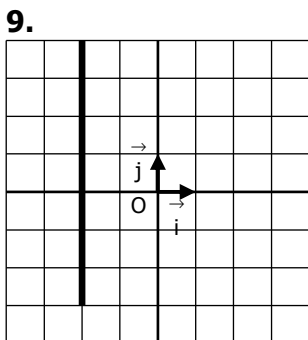
(1 ; 0) ou (2 ; 0) ou (-3 ; 0).....



(1 ; 2) ou (2 ; 4) ou (3 ; 6).....

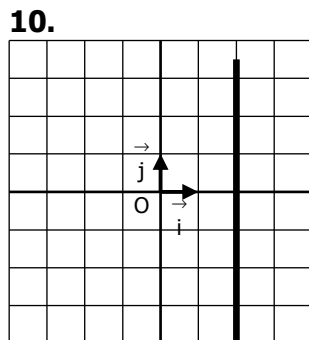


(1 ; -1) ou (2 ; -2) ou (2 ; -2) ou (-3 ; 3)...



Tu te déplaces de zéro (=droite/gauche) et tu peux monter de 1 ou 2 ou descendre de 1 ou de descendre de 2

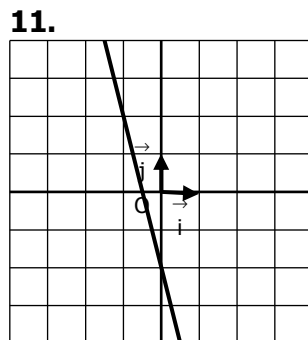
(0 ; 1) ou (0 ; 2) ou (0 ; - 1) ou (0 ; -2).....



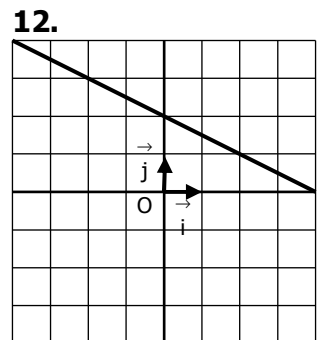
Tu te déplaces de zéro (=droite/gauche) et tu peux monter de 1 ou 2 ou descendre de 1 ou de descendre de 2

(0 ; 1) ou (0 ; 2) ou (0 ; - 1) ou (0 ; -2).....

.....



(1 ; - 4) ou (2 ; - 8).....



(2 ; - 1) ou (4 ; - 8) ou (-2 ; 1) ou (-4 ; 8)